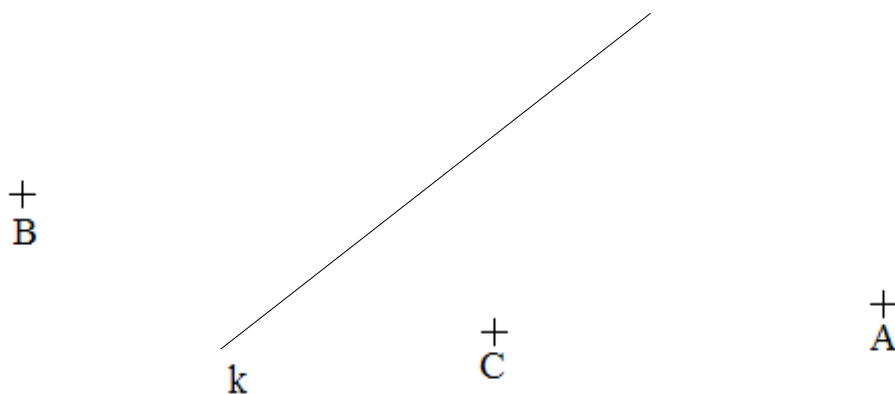
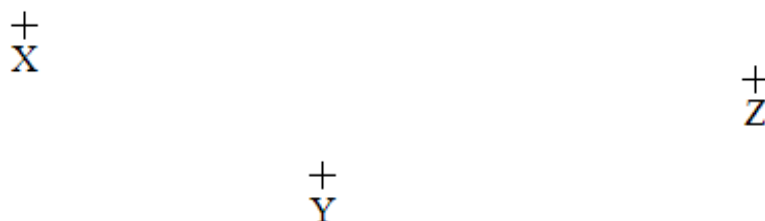



INVESTICE DO ROZVOJE VZDĚLÁVÁNÍ

VY_32_INOVACE_M. 4. 16

Jméno:.....

Rýsování1) Narýsuj rovnoběžné přímky s přímkou k , které prochází bodem A, B, C.2) Narýsuj přímky o , p , q , které budou různoběžné a budou procházet bodem x , y , z .

3) Narýsuj přímky m, n , které prochází body M, N . Vzájemná poloha přímek jsou k sobě kolmé.



4) Narýsuj osu úsečky všech tří stran trojúhelníku EFG .

